

2º ANO

OLIMPIÁDA MIRIM DE MATEMÁTICA SÃO PAULO 2026



GABARITO

INSTRUÇÕES:

1. CADA QUESTÃO TEM 4 ALTERNATIVAS DE RESPOSTA: A, B, C, D. APENAS 1 DELAS É CORRETA.
2. MARQUE A LÁPIS OU À CANETA APENAS 1 ALTERNATIVA PARA CADA QUESTÃO.
3. OS ESPAÇOS EM BRANCO NA PROVA PODEM SER USADOS PARA RASCUNHO.
4. AO FINAL DA PROVA, PASSE SUAS RESPOSTAS PARA O QUADRO DE RESPOSTAS, MARCANDO COM X OU COLORINDO O QUADRO, E ENTREGUE A PROVA PARA O (A) PROFESSOR (A).

QUADRO DE RESPOSTAS:

1	2	3	4	5	6	7	8	9	10	11	12
A	A	A	A	A	A	A	A	A	A	A	A
A	B	B	B	B	B	B	B	B	B	B	B
C	C	C	C	C	C	C	C	C	C	C	C
D	D	D	D	D	D	D	D	D	D	D	D



GOVERNO DO ESTADO
DE SÃO PAULO

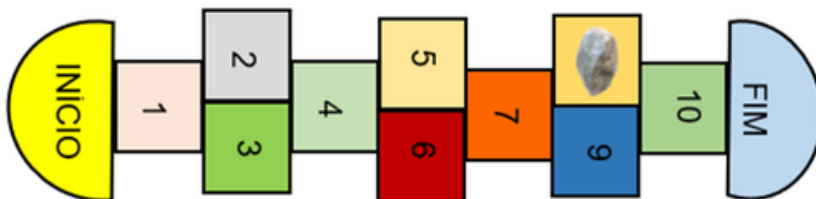
SECRETARIA DA EDUCAÇÃO

1. OBSERVE A SEQUÊNCIA DE FIGURAS NAS CAIXAS ABAIXO E RESPONDA: **QUAL PEÇA ESTARÁ NA CAIXA 5 ?**




- A) BOTA B) BONÉ C) CALÇA **D) CAMISETA**

2. PAULO ESTÁ BRINCANDO DE AMARELINHA. A PEDRINHA CAIU EM UMA DAS CASAS E ELE NÃO PODE PISAR NELA, CONFORME IMAGEM ABAIXO. **QUAL É O NÚMERO DA CASA QUE PAULO DEVE PULAR ?**



- A) 6 B) 7 **C) 8** D) 9

3. OBSERVE A FIGURA DO GATINHO. UMA PARTE ESTÁ FALTANDO. **QUAL PEÇA COMPLETA A FIGURA DO GATINHO ?**



- A) **C)**
- B) D)

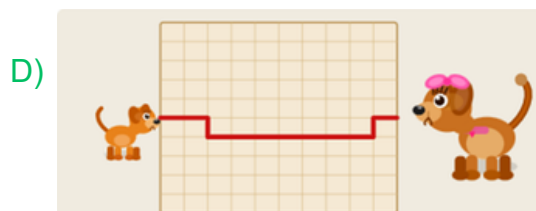
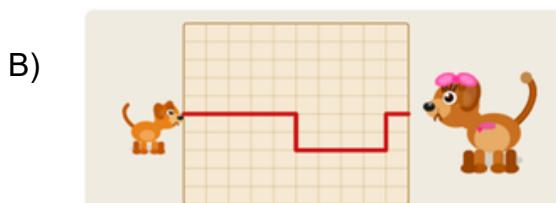

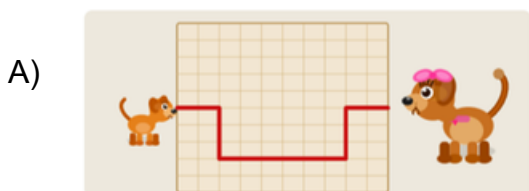
4. MARINA APOIOU UMA DAS FACES DO DADO SOBRE UMA FOLHA DE PAPEL E CONTORNOU ESSA FACE COM O LÁPIS.



QUAL FIGURA MARINA DESENHOU NA FOLHA?

- A) TRIÂNGULO
- B) QUADRADO**
- C) TRAPÉZIO
- D) CÍRCULO

5. OBSERVE OS CAMINHOS QUE LIGAM UM FILHOTE DE CACHORRO À SUA MÃE. **QUAL DOS CAMINHOS É O MAIS CURTO?**



6. OBSERVE O CALENDÁRIO AO LADO. O DIA DO ANIVERSÁRIO DE ANA ESTÁ MARCADO COM UM DESENHO DE BOLO. PORÉM A FESTA DE COMEMORAÇÃO SERÁ NO SEGUNDO SÁBADO DEPOIS DO ANIVERSÁRIO DE ANA. QUE DIA DO MÊS SERÁ A FESTA?

JUNHO 2026						
SEGUNDA	TERÇA	QUARTA	QUINTA	SEXTA	SÁBADO	DOMINGO
1	2	3	4	5	6	7
8	9	10	11	12	13	14
15	16	17	18	19 	20	21
22	23	24	25	26	27	28
29	30					

- A) 20 B) 21 C) 27 D) 28

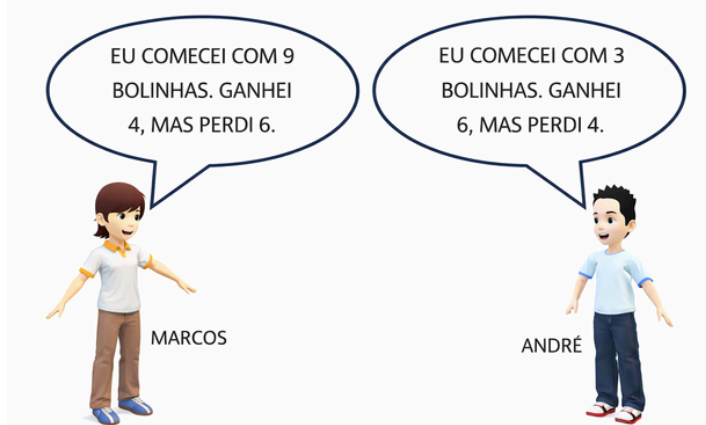
7. A FIGURA MOSTRA TRÊS CAIXAS DE BRINQUEDO NA PRATELEIRA DE CLÉO. AS CAIXAS SÃO: AMARELA, PRETA E BRANCA.



PRIMEIRO, CLÉO TROCOU DE LUGAR A CAIXA AMARELA COM A CAIXA PRETA. DEPOIS, TROCOU A CAIXA PRETA PELA CAIXA BRANCA. **COMO ESSAS CAIXAS FICARAM NO FINAL?**



8. MARCOS E ANDRÉ JOGAVAM BOLINHAS DE GUDE. DEPOIS DA PARTIDA, ELES CONVERSARAM SOBRE O JOGO. LEIA O DIÁLOGO ENTRE ELES:



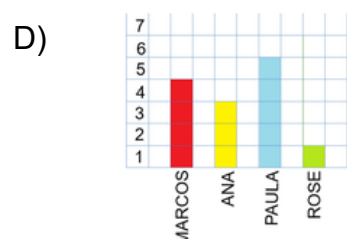
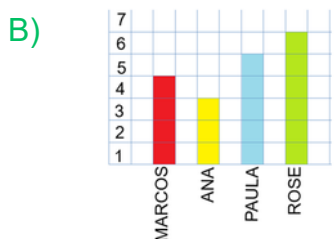
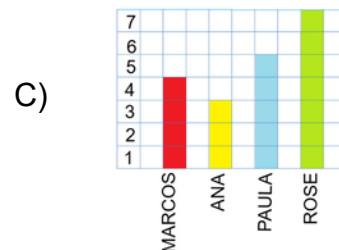
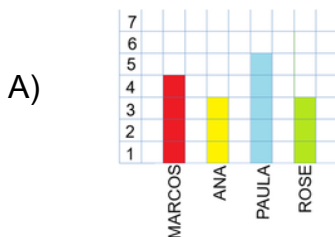
COM QUANTAS BOLINHAS MARCOS FICOU A MAIS QUE ANDRÉ?

- A) 7 B) 5 C) 3 **D) 2**

9. A PROFESSORA BIA FEZ UMA ELEIÇÃO COM OS ALUNOS PARA ESCOLHER O REPRESENTANTE DA TURMA. TODOS OS ALUNOS VOTARAM, E CADA UM ESCOLHEU APENAS UM CANDIDATO. ROSE GANHOU A ELEIÇÃO, COM UM VOTO A MAIS QUE PAULA. A TABELA MOSTRA A QUANTIDADE DE VOTOS DE CADA CANDIDATO. **QUAL GRÁFICO REPRESENTA O RESULTADO DESSA ELEIÇÃO?**

TABELA CANDIDATOS

CANDIDATOS	VOTOS
MARCOS	
ANA	
PAULA	
ROSE	?



10. EM UMA PROVA DE SALTO TRIPLO, UM ATLETA DEU TRÊS SALTOS.

- NO PRIMEIRO SALTO, ELE PERCORREU 7 METROS.
- NO TERCEIRO SALTO, PERCORREU 5 METROS.
- O SEGUNDO SALTO FOI MAIOR QUE O TERCEIRO E MENOR QUE O PRIMEIRO.



QUANTOS METROS O ATLETA PERCORREU SOMANDO OS TRÊS SALTOS ?

- A) 16 B) 17 C) 18 D) 19

11. OBSERVE O PREÇO DE CADA MATERIAL ESCOLAR:



CAROL COMPROU DOIS LÁPIS, UMA BORRACHA E UM CADERNO. ELA PAGOU A COMPRA COM A NOTA QUE ESTÁ NESTA FIGURA:



QUAL FOI O VALOR DO TROCO QUE ELA RECEBEU?



12. UMA DAS PORTAS ABAIXO É A DA SALA DA DIRETORIA DA ESCOLA. AS SALAS SÃO NUMERADAS DE ACORDO COM ESTA FIGURA:



PARA DESCOBRIR O NÚMERO EXATO DA SALA DA DIRETORIA, ANALISE AS SEGUINTE PISTAS:

- **PISTA 1:** O NÚMERO TEM 3 ALGARISMOS, E O ALGARISMO DA UNIDADE É O 5.
- **PISTA 2:** SE VOCÊ ADICIONAR UMA DEZENA AO NÚMERO DA PORTA, O RESULTADO SERÁ O NÚMERO MAIOR POSSÍVEL DAS PORTAS.
- **PISTA 3:** A SOMA DO ALGARISMO DA CENTENA COM O ALGARISMO DA DEZENA É IGUAL A 2.

QUAL É O NÚMERO DA SALA DA DIRETORIA?

- A) 95
- B) 105
- C) 115
- D) 125